



Fagleg kontakt under eksamen:  
Førsteamanuensis Per Hag, Telefon: 91743

MA1101 Grunnkurs i analyse I

Nynorsk

Torsdag 9. juni 2005

Kl. 9-13

Hjelpemiddel: Godkjent kalkulator (HP30S)

Sensur: 30. juni 2005

Oppgåvene 1 - 4: Svarane skal grunngjevast. Mellomrekning skal med i løysinga.  
Oppgåve 5: Det skal her kryssast av R eller G. Ytterlegare grunngjeving krevst  
ikkje. Arket med oppgåve 5 skal leverast saman med løysinga av oppgåvene 1-4.

(Kvar av dei 5 oppgåvene har same vekt.)

Oppgåve 1

a) Avgjer om grenseverdien:

$$\lim_{x \rightarrow 1} \frac{(1-x)^{2/3}}{x-1}$$

eksisterer

b) Funksjonen  $f : \mathbb{R} \rightarrow \mathbb{R}$  er gitt ved:

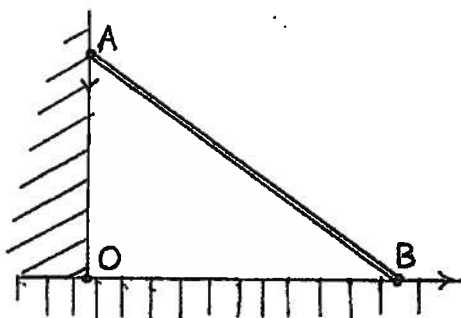
$$f(x) = (1-x)^{2/3}$$

Avgjer om  $f$  er deriverbar i  $x = 1$  og finn  $f'(x)$  der denne deriverte eksisterer.

c) Lag ei skisse av funksjonen i (b) der eventuelle lokale og absolutte ekstrema avmerkast.  
Like eins skal monotoniteteigenskapar og symmetrieigenskapar framgå av skissa.

## ✓ Oppgave 2

Toppen av ein 10 meter lang stolpe  $AB$  støttar seg mot ein vertikal vegg. Stolpen sitt nedste punkt  $B$  rører seg bort frå det nedste punktet av veggens med ein konstant hastighet på  $1/3$  meter/sekund slik at det øvste punktet  $A$  rører seg loddrett nedover langs veggens. Kor fort rører punkt  $A$  seg når dette punktet er 6 meter over bakken?



## Oppgave 3

Rekn ut integrala

a)

$$\int x^2 \cos x dx$$

b)

$$\int_1^3 \sqrt{x} e^{-\sqrt{x}} dx$$

## Oppgave 4

a) Skriv opp sekant-setninga (Mean-Value Theorem). Bevis krevst ikkje. Lag ei skisse som illustrerer innhaldet av dette teoremet.

b) Gje eksempel som viser at ingen av førsetnadene:

(i)  $f$  er kontinuerleg på  $[a, b]$

(ii)  $f$  er deriverbar i  $]a, b[$

kan utelatast.

STUDENTNUMMER:

Dette arket skal besvarast og leverast inn.

## ✓ Oppgåve 5

Merk av R (rett) eller G (galt) i ruta til høgre. Her krevst inga grunngjeving.

- (i) Hvis  $f'(x_0)$  eksisterer, så må  $f$  vere kontinuerleg i  $x = x_0$ .
- (ii) Hvis  $f'(x_0) = 0$ , så må funksjonen  $f$  ha eit lokalt ekstremum i  $x = x_0$ .
- (iii) Hvis  $f'(x) = 0$  for alle  $x \in ]a, b[$ , så er  $f$  konstant på  $]a, b[$ .
- (iv) Dersom  $f$  er ein odde funksjon som er deriverbar for alle  $x \in \mathbb{R}$ , så er  $f'$  ein like funksjon.
- (v) Differensiallikninga  $y' = \frac{x^2}{y^2}$  har den allmenne løysninga  $y^3 - x^3 = K$ .
- (vi) For kvar  $x \in \mathbb{R}$  har vi  $\lim_{n \rightarrow \infty} \left(1 + \frac{x}{n}\right)^n = e^x$ .
- (vii) For  $-1 < x < 1$  har vi  $\frac{d}{dx}(\sin^{-1} x) = \frac{-1}{\sqrt{1-x^2}}$ .

MA1101, 9/6-05

Eksamen, løsninger:

OPPGAVE 1:

$$(a) \quad \lim_{x \rightarrow 1} \frac{(1-x)^{2/3}}{x-1} = - \lim_{x \rightarrow 1} \frac{(1-x)^{2/3}}{1-x}$$

$$= - \lim_{x \rightarrow 1} (1-x)^{-1/3} = \begin{cases} -\infty & ; \text{ når } x \rightarrow 1^- \\ \infty & ; \text{ når } x \rightarrow 1^+ \end{cases}$$

Altså grensen eksisterer ikke.

(b) For å avgjøre deriverbarheten i  $x=1$  må vi se på:

$$\lim_{x \rightarrow 1} \frac{f(x) - f(1)}{x - 1} = \lim_{x \rightarrow 1} \frac{(1-x)^{2/3}}{x-1} \text{ som}$$

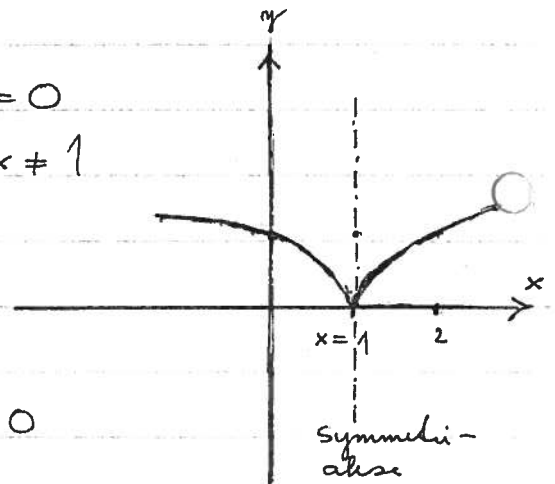
ikke eksisterer i følge (a). For  $x \neq 1$  har vi:

$$\underline{f'(x) = -\frac{2}{3}(1-x)^{-1/3}}$$

(c) Vi observerer at  $f(1) = 0$  mens  $f(x) > 0$  for alle  $x \neq 1$ . Fra dette følger at  $f$  har et globalt (absolutt) minimum for  $x=1$ .

Fra (b) har vi at  $f'(x) > 0$  når  $x > 1$  og  $f'(x) < 0$  når  $x < 1$ . Altså avtar funksjonen i  $]-\infty, 1[$  og vokser i  $]1, \infty[$ . For  $x \neq 1$  er  $f'(x) \neq 0$ , s.a.  $x=1$  er eneste lokale ekstremum.

Videre har vi symmetri om  $x=1$  og  $\lim_{x \rightarrow \pm\infty} f(x) = \infty$



OPPGAVE 2:

Vi innfører betegnelse:

$$OA = y(t), \quad OB = x(t).$$

Ut fra Pythagoras' teorem har vi derfor for hver  $t$ :

$$x(t)^2 + y(t)^2 = 10^2 = 100.$$

Implisitt derivasjon gir:

$$2x(t)x'(t) + 2y(t)y'(t) = 0$$

eller:  $y'(t) = -\frac{x(t)}{y(t)} \cdot x'(t) \quad \text{når } y(t) \neq 0.$

Når  $y(t_0) = 6$  for  $t = t_0$ , har vi i samme tidspunkt  $x(t_0) = \sqrt{100 - y(t_0)^2} = \sqrt{100 - 36} = \sqrt{64} = 8$ . Siden  $x'(t) = \frac{1}{3}$  m/s for alle  $t$ , har vi da:

$$y'(t_0) = -\frac{x(t_0)}{y(t_0)} \cdot x'(t_0) = -\frac{8}{6} \cdot \frac{1}{3} = \underline{\underline{-\frac{4}{9}}}$$

Det øverste punktet på stolpen beveger seg altså nedover med en hastighet på  $\frac{4}{9}$  m/s.

OPPGAVE 3:

(a) Vi benytter delvis integrasjon:

$$\begin{aligned} \int x^2 \cos x \, dx &= x^2 \sin x - \int 2x \sin x \, dx \\ &= x^2 \sin x - 2[-x \cos x + \int \cos x \, dx] \\ &= \underline{\underline{x^2 \sin x + 2x \cos x - 2 \sin x + K}} \end{aligned}$$

$$(b) \int_1^3 \sqrt{x} e^{-\sqrt{x}} dx$$

Vi løser først det ubestemte integral  
ved substitusjonen  $u = \sqrt{x}$ . Dette gir:  
 $du = \frac{1}{2} \frac{1}{\sqrt{x}} dx$ , og vi får videre:

$$\begin{aligned} \int \sqrt{x} e^{-\sqrt{x}} dx &= 2 \int x e^{-\sqrt{x}} \frac{1}{2\sqrt{x}} dx = 2 \int u^2 e^{-u} du \\ &= 2 \left[ -u^2 e^{-u} + \int 2u e^{-u} du \right] = -2u^2 e^{-u} + 4 \int u e^{-u} du \\ &= -2u^2 e^{-u} + 4 \left[ -u e^{-u} + \int e^{-u} du \right] \\ &= -2u^2 e^{-u} - 4u e^{-u} - 4e^{-u} + C \\ &= -2x e^{-\sqrt{x}} - 4\sqrt{x} e^{-\sqrt{x}} - 4e^{-\sqrt{x}} + C \\ &= -e^{-\sqrt{x}} [2x + 4\sqrt{x} + 4] + C \end{aligned}$$

Dette gir videre:

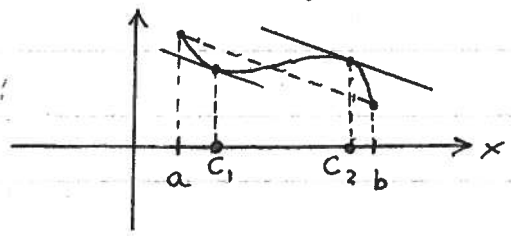
$$\begin{aligned} \int_1^3 \sqrt{x} e^{-\sqrt{x}} dx &= -e^{-\sqrt{3}} (6 + 4\sqrt{3} + 4) \\ &+ e^{-1} (2 + 4 + 4) = \underline{\underline{\frac{10}{e} - \frac{10 + 4\sqrt{3}}{e^{\sqrt{3}}}}} \end{aligned}$$

OPPGAVE 4:

(a) SEKANT - SETNINGEN:

Hvis funksjonen  $f: [a, b] \rightarrow \mathbb{R}$  er  
kontinuerlig og dessuten deriverbar i  
 $]a, b[$ , så finnes det et punkt  
 $c$  s.a.

$$f'(c) = \frac{f(b) - f(a)}{b - a}$$



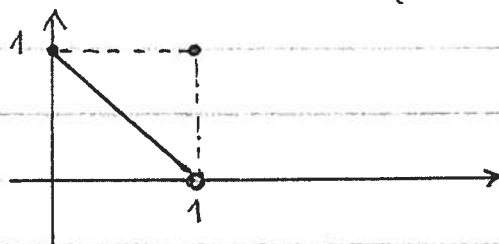
Vi har at  $\frac{f(b) - f(a)}{b - a}$   
er stigningsfallet til

④

sekanten som forbinder punktene  $(a, f(a))$  og  $(b, f(b))$ . Sekantsætningen sier at under ovenstående forutsetninger så finnes det minst et punkt  $c \in ]a, b[$  der kurvetangenten er parallell med denne sekanten. (På vår figur har vi angitt to slike punkter,  $x=c_1$  og  $x=c_2$ .)

(b) • Hvis vi svekker betingelsene til  $f$  er deriverbar i  $]a, b[$  og utelater kravet om at  $f$  skal være kontinuert i  $[a, b]$ , har vi følgende eksempel som viser at konklusjonen ikke holder:

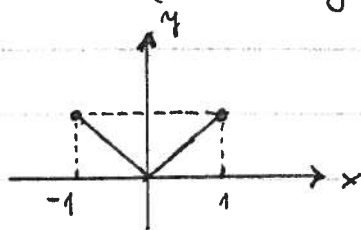
$$f(x) = \begin{cases} 1-x; & 0 \leq x < 1 \\ 1; & x = 1 \end{cases}$$



$$\frac{f(1) - f(0)}{1 - 0} = 0, \quad f'(x) = -1 \text{ for alle } x \in ]-1, 1[$$

• Hvis vi utelater betingelsen:  $f'(x)$  eksisterer i  $]a, b[$ , viser følgende eksempel at konklusjonen ikke holder:

$$f(x) = |x| \text{ for } x \in [-1, 1]$$

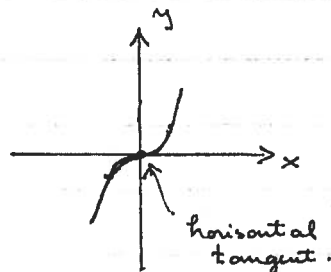


Hier vil  $f'(0)$  ikke eksistere.

$$\frac{f(1) - f(-1)}{1 + 1} = 0, \text{ mens } f'(x) = -1$$

for  $x < 0$  og  $f'(x) = 1$  for  $x > 0$ .

## OPPGAVE 5:

(i) R (Teorem 1, s. 112, Adams)(ii) G ( $V_i$  har følgende matematiske eksempler:
 $y = x^3$ ,  $y' = 3x^2$   
 $y'(0) = 0$ , men  $x = 0$  gir  
 heller lokalt maksimum  
 eller lokalt minimum.)

(iii) R (Anta at  $a < x_1 < x_2 < b$ ; på intervallet  $[x_1, x_2]$  oppfylder  $f$  betingelsen i sekant-svingen. Det finnes altså et  $c \in ]x_1, x_2[$  slik at:

$$f'(c) = \frac{f(x_2) - f(x_1)}{x_2 - x_1}$$

Men siden  $f'(c) = 0$ , må  $f(x_2) = f(x_1)$ .

(iv) R ( $f(-x) = -f(x)$  gir:

$$f'(-x_0) = \lim_{-x \rightarrow -x_0} \frac{f(x) - f(-x_0)}{-x + x_0} = \lim_{x \rightarrow x_0} \frac{-f(-x) + f(-x_0)}{x - x_0}$$

$$= \lim_{x \rightarrow x_0} \frac{f(x) - f(x_0)}{x - x_0} = f'(x_0).$$

(v) R (Implisitt derivasjon gir:  $3xy^2y' - 3x^2 = 0$   
 eller ekvivalent:  $y' = x^2/y^2$  når  $y \neq 0$ .)

(vi) R (Teorem 6, s. 201)(vii) G ( $\frac{d}{dx}(\sin^{-1}x) = \frac{1}{\sqrt{1-x^2}}$ , s. 207)