

Lösningssförslag

Elementær diskret matematikk, MA0301, våren 2011

Oppgave 1

Varje ord motsvarar en permutasjon av storlek 5 frå de 9 bokstävorna i TRONDHEIM. Alltså är antalet sökta ord $P(9, 5) = 9 \cdot 8 \cdot 7 \cdot 6 \cdot 5$. På liknande sätt får vi att det finns $P(8, 5)$ sådana ord som inte innehåller bokstaven O. Antalet ord som innehåller bokstaven O är alltså $P(9, 5) - P(8, 5) = 9 \cdot 8 \cdot 7 \cdot 6 \cdot 5 - 8 \cdot 7 \cdot 6 \cdot 5 \cdot 4 = (9 - 4) \cdot 8 \cdot 7 \cdot 6 \cdot 5 = 8 \cdot 7 \cdot 6 \cdot 5^2$.

Oppgave 2

Binomialteoremet ger

$$(3 + 4x^2)^{12} = \sum_{k=0}^{12} \binom{12}{k} 3^{12-k} 4^k x^{2k}.$$

Koefficienten till x^{10} motsvarar $2k = 10$, det vill säga $k = 5$. Därmed är koefficienten till x^{10} :

$$\binom{12}{5} 3^{12-5} 4^5 = \binom{12}{5} 3^7 4^5 = \frac{12 \cdot 11 \cdot 10 \cdot 9 \cdot 8}{5 \cdot 4 \cdot 3 \cdot 2} 3^7 2^{10} = 11 \cdot 3^9 \cdot 2^{13}.$$

Oppgave 3

Följande resonemang visar att argumentet är giltigt:

Steg	Motivation
1) q	Premiss
2) $\neg\neg q$	Dubbelnegation: 1)
3) $p \rightarrow \neg q$	Premiss
4) $\neg p$	Modus Tollens: 2), 3)
5) $p \vee r$	Premiss
6) r	Disjunktiv syllogism: 4), 5)
7) $r \wedge q$	Konjunktion: 1), 6)
8) $(r \wedge q) \rightarrow s$	Premiss
9) s	Modus Ponens: 7), 8)

Oppgave 4

Vi bevisar att

$$a_n = \frac{3^n + 1}{2}$$

med induktion över n . Först verifierar vi basfallet

$$a_0 = 1 = \frac{2}{2} = \frac{3^0 + 1}{2}.$$

Därefter tar vi induktionssteget. Låt $k \geq 0$ och antag att

$$a_k = \frac{3^k + 1}{2}.$$

Enligt rekursionsformeln gäller då att

$$a_{k+1} = 3a_k - 1 = 3 \frac{3^k + 1}{2} - 1 = \frac{3^{k+1} + 3 - 2}{2} = \frac{3^{k+1} + 1}{2}.$$

Enligt induktionsprincipen följer att

$$a_n = \frac{3^n + 1}{2}$$

för alla naturliga tal n .

Oppgave 5

a) Definiera $f : A \rightarrow B$ genom

$$f(a) = 1, f(b) = 2, f(c) = 3$$

och $g : B \rightarrow A$ genom

$$g(1) = a, g(2) = b, g(3) = c, g(4) = c.$$

Då är $g \circ f$ indentitetsfunktionen på A och därmed bijektiv. Dessutom är inversen $(g \circ f)^{-1}$ också indentitetsfunktionen på A , det vill säga

$$(g \circ f)^{-1}(a) = a, (g \circ f)^{-1}(b) = b, (g \circ f)^{-1}(c) = c.$$

b) Definiera $f : A \rightarrow B$ genom

$$f(a) = 1, f(b) = 2, f(c) = 3$$

och $g : B \rightarrow A$ genom

$$g(1) = a, g(2) = a, g(3) = b, g(4) = c.$$

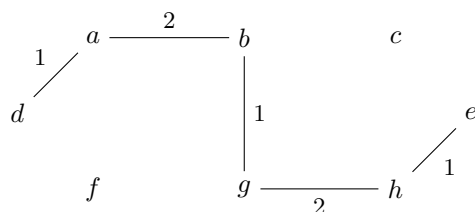
Då är f injektiv eftersom $f(a)$, $f(b)$ och $f(c)$ alla är olika. Dessutom är $g(B) = \{a, b, c\}$, vilket ger att g är surjektiv. Vi beräknar nu

$$(g \circ f)(a) = a, (g \circ f)(b) = a, (g \circ f)(c) = b,$$

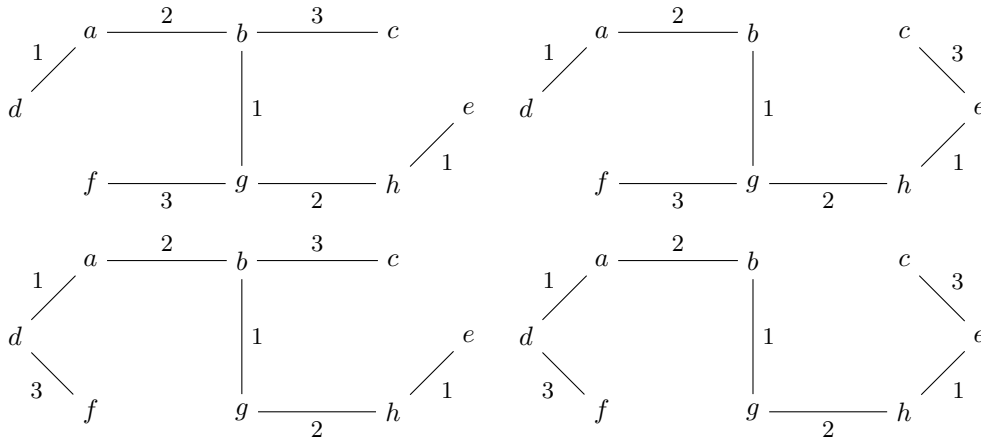
vilket visar att $(g \circ f)$ inte är bijektiv. Till exempel ser vi att $(g \circ f)(a) = a = (g \circ f)(b)$ och alltså är $(g \circ f)$ inte injektiv.

Oppgave 6

Om vi kör Kruskal's algoritim i 5 steg så får vi delgrafan

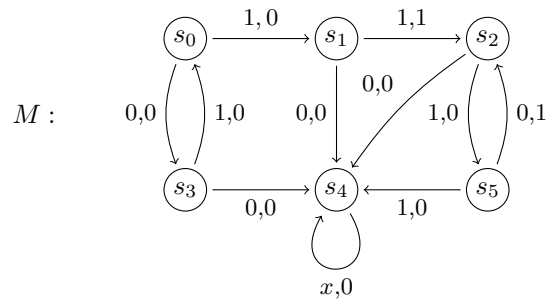


I de 2 följande stegen kan vi välja en av kanterna $\{g, f\}$, $\{d, f\}$ och en av kanterna $\{b, c\}$, $\{e, c\}$. Det ger $2 \cdot 2 = 4$ möjliga val vilka resulterar följande minimala utspännande träd:



Oppgave 7

Vi söker en maskin med inputalfabet och outputalfabet $\{0, 1\}$. Den ska ge output som slutar med 1 om och endast om input ligger i $\{01\}^*\{11\}\{10\}^*$. Vi kallar starttillståndet s_0 . Ett exempel på en sådan maskin är

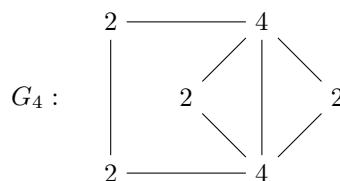
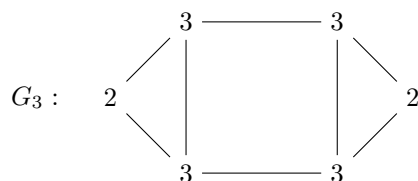
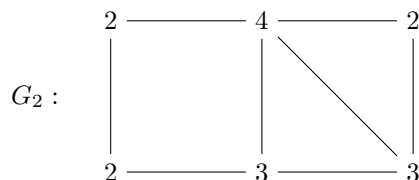
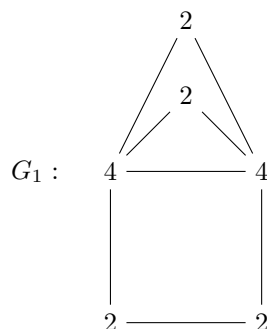


Vi kan kontrollera att M känner igen $\{01\}^*\{11\}\{10\}^*$ genom att verifiera att M befinner sig i tillstånd s_i om och endast om M har läst in en sträng från språket L_i där

$$\begin{aligned}
 L_0 &= \{01\}^*, & L_1 &= \{01\}^*\{1\}, & L_2 &= \{01\}^*\{11\}\{10\}^*, \\
 L_3 &= \{01\}^*\{0\}, & L_4 &= \{0, 1\}^* \setminus (\bigcup_{j \neq 4} L_j), & L_5 &= \{01\}^*\{11\}\{10\}^*\{1\}.
 \end{aligned}$$

Oppgave 8

Vi beräkner graderna av alle noder:



Eftersom antallet noder av grad 3 är olika i alla fall utom för G_1 och G_4 så är den enda möjligheten at G_1 och G_4 är isomorfa. At G_1 är isomorf G_4 visar vi genom at hitta en isomorfism f från G_1 till G_2 :

$$\begin{array}{c|cccccc} x & a & b & c & d & e & f \\ \hline f(x) & u & v & t & y & s & x \end{array}$$

Oppgave 9

a) Relationen \mathcal{R} är en delvis ordning.

- Reflexiv*: Låt $f \in F$. Då gäller at $f(x) \leq f(x)$ for alle $x \in \mathbb{Z}$. Alltså gäller $f\mathcal{R}f$.
- Transitiv*: Låt $f, g, h \in F$ så at $f\mathcal{R}g$ och $g\mathcal{R}h$. Då gäller at $f(x) \leq g(x) \leq h(x)$ for alle $x \in \mathbb{Z}$. Alltså gäller at $f(x) \leq h(x)$ for alle $x \in \mathbb{Z}$ och dermed är $f\mathcal{R}h$.
- Antisymmetrisk*: Låt $f, g \in F$ så at $f\mathcal{R}g$ och $g\mathcal{R}f$. Då gäller at $f(x) \leq g(x) \leq f(x)$ for alle $x \in \mathbb{Z}$. Alltså gäller at $f(x) = g(x)$ for alle $x \in \mathbb{Z}$ og dermed är $f = g$.

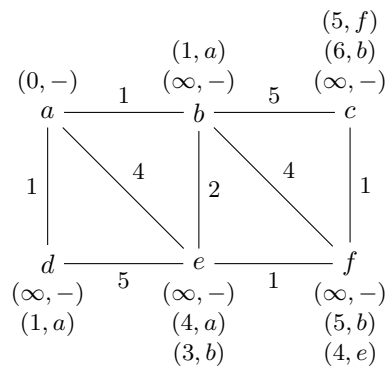
b) Relationen \mathcal{S} är inte en delvis ordning. Mer precist gäller at \mathcal{S} varken är transitiv eller antisymmetrisk. Definiera $f, g, h \in F$ genom $f(x) = 1$, $h(x) = 0$ for alle $x \in \mathbb{Z}$ og

$$g(x) = \begin{cases} 1 & x \leq 0, \\ 0 & x > 0. \end{cases}$$

Då är $f(0) = 1 \leq 1 = g(0)$ og $g(1) = 0 \leq 0 = h(1)$. Alltså är $f\mathcal{S}g$ og $g\mathcal{S}h$. Men $f(x) = 1 > 0 = h(x)$ gäller for alle $x \in \mathbb{Z}$. Alltså är f inte relaterad till h og dermed är \mathcal{S} inte transitiv. Dessutom gäller at $g(0) = 1 \leq 1 = f(0)$ vilket ger $g\mathcal{S}f$. Eftersom $f \neq g$ så är \mathcal{S} inte antisymmetrisk.

Oppgave 10

Når Dijkstra's algoritme kör så besøks noderna i följande ordning: a, b, d, e, f, c . Under tiden tilldelas dessa etiketter:



Därmed är $a - b - e - f - c$ den kortaste vägen från a till c .